



به نام خالق هستي

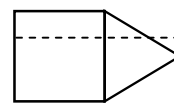
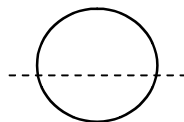


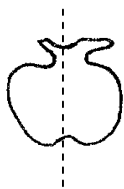
دبستان دخترانه
.....

آزمون رياضي
نام :
(ناله سوم)

رياضي

1 (براي كشيدن دايره اي به قطر 8 سانتي متر دهانه ي پرگار را بايد چند سانتي متر باز كنيم ؟

2 (خط كشيده شده در کدام شكل خط تقارن است ؟ * بنزيد .



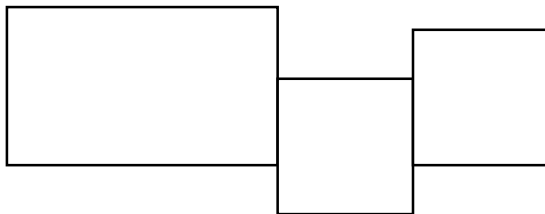
3 (عرض يك مستطيل 10 متر و طول چند متر است ؟

4 (2 متر و 17 سانتي متر چند ميلي متر است ؟

305 ميلي متر چند سانتي متر و چند ميلي متر است ؟

يك متر ميلي متر است .

5 (مساحت شكل رو به رو را پيدا كنيد .
9 س



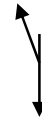
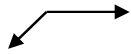
5 س
5 س

5 س

6 (يك مكعب از مربع درشت شده است .

7 (يك داييره شعاع و قطر دارد و قطر شعاع است .

8 (يك شكل بكشيد كه خط تقارن ندارد .



17 (7045 ميلي ميتر متر ميلي متر ساني متر و ميلي متر است .

3 متر و 24 ساني متر و 9 ميلي متر چند ميلي متر است ؟
18 (در جاي خالي عدد مناسب بنويسيد .

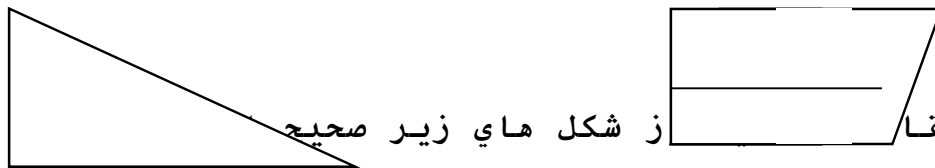
4!! !28! !!!4!! !20!!!! !!!4!! !!! !!!!!!!!!

30!! !4!! !0!

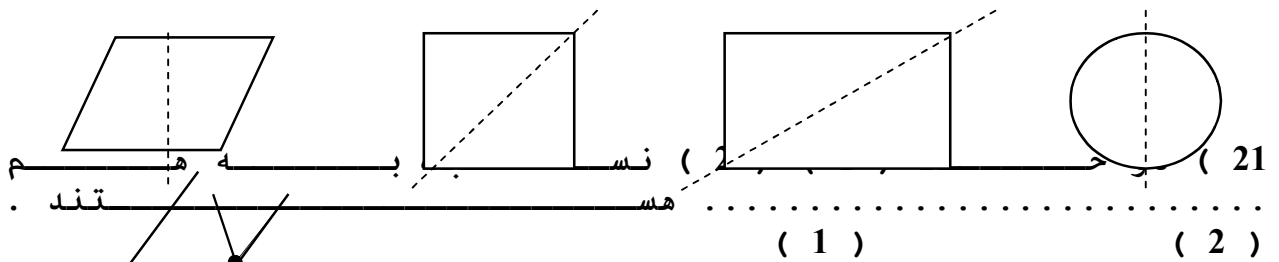
27!! !!! !2700

!! !! !7! !5

19 (با استفاده از گونيا گوشه هاي راست را رنگ كن .



20 (خط تقا ز شكل هاي زير صحيح بزنييد

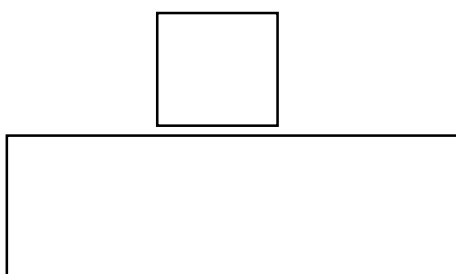


د نقطه ي د چه نام دارد ؟

(3)

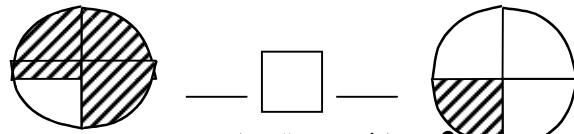
22 (مساحت شكل را بدست آوريد .

9 س



7 س

23 (کسر مربوط به قسمت رنگ شده ی هر شکل را بنویسید ، علامت مناسب بگذارید .



24 (مجموع طول و عرض مستطیلی 245 سانتی متر است ؟ محیط این مستطیل را بدست آورید .

25 (2 میز داریم که روی هر میز 3 گلدان گذاشته ایم و در هر گلدان 9 شاخه گل گذاشته ایم ، چند گل داریم ؟

26 (کتاب فاطمه 45 صفحه دارد . خمس کتابش را خوانده است . چند صفحه خوانده است ؟ و چند صفحه از کتابش باقی مانده است ؟

27 (مادر زهرا 2000 تومان پول داشت ، 3 کتاب 275 تومانی خرید . مادر زهرا چند تومان خرج کرده است ؟ و چند تومان برایش باقی مانده است ؟